

## Geografía de México y del mundo

### Bloque I

**Instrucciones.** Lee y contesta correctamente lo que se te pide.

1. Completa el siguiente cuadro.

CARACTERÍSTICAS DEL ESPACIO GEOGRÁFICO	Localizable	
		Existencia de una gran variedad de componentes naturales, sociales, culturales, económicos y políticos
	Cambiante	
	Temporal	
		Puede ser estudiado como espacio único e irreplicable, reducido a una serie de rasgos en común

2. Menciona las características de cada uno de los componentes del espacio geográfico.

Naturales	Sociales	Políticos	Culturales	Económicos

3. Es una categoría de análisis espacial que hace referencia al entorno donde se desenvuelven los seres humanos y al uso de los recursos con los que cuentan.

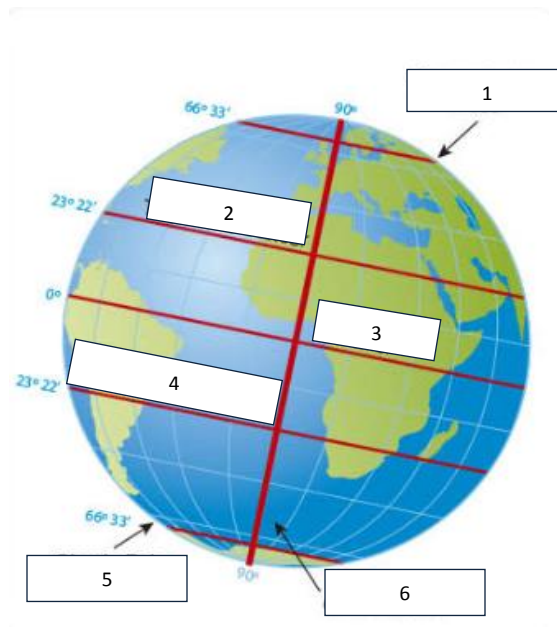
- a) Lugar
- b) Territorio
- c) Medio
- d) Paisaje

4. Es una categoría del análisis espacial que refiere a la porción del espacio que se delimita políticamente.
  - a) Territorio
  - b) Medio
  - c) Lugar
  - d) Paisaje
  
5. Es un tipo de escala que nos permite identificar, entre otros elementos, las regiones naturales de un país determinado.
  - a) Mundial
  - b) Nacional
  - c) Local
  - d) Estatal
  
6. Observa el siguiente mapa y selecciona el tipo de escala que representa.



- a) Nacional
- b) Local
- c) Estatal
- d) Mundial

7. Observa la siguiente imagen y elige la opción correcta.



1. Trópico de Cáncer 2. Trópico de Capricornio 3. Meridiano de Greenwich 4. Círculo Polar Ártico 5. Círculo Polar Antártico 6. Ecuador
1. Círculo Polar Ártico 2. Ecuador 3. Trópico de Cáncer 4. Trópico de Capricornio 5. Meridiano de Greenwich 6. Círculo Polar Antártico
1. Círculo Polar Ártico 2. Trópico de Cáncer 3. Ecuador 4. Trópico de Capricornio 5. Círculo Polar Antártico 6. Meridiano de Greenwich
1. Círculo Polar Antártico 2. Trópico de Cáncer 3. Ecuador 4. Meridiano de Greenwich 5. Trópico de Capricornio 6. Círculo Polar Ártico

8. Es una coordenada geográfica que determina la distancia de un punto sobre la superficie terrestre a partir del nivel del mar.

- Latitud
- Altitud
- Longitud
- Paralelos

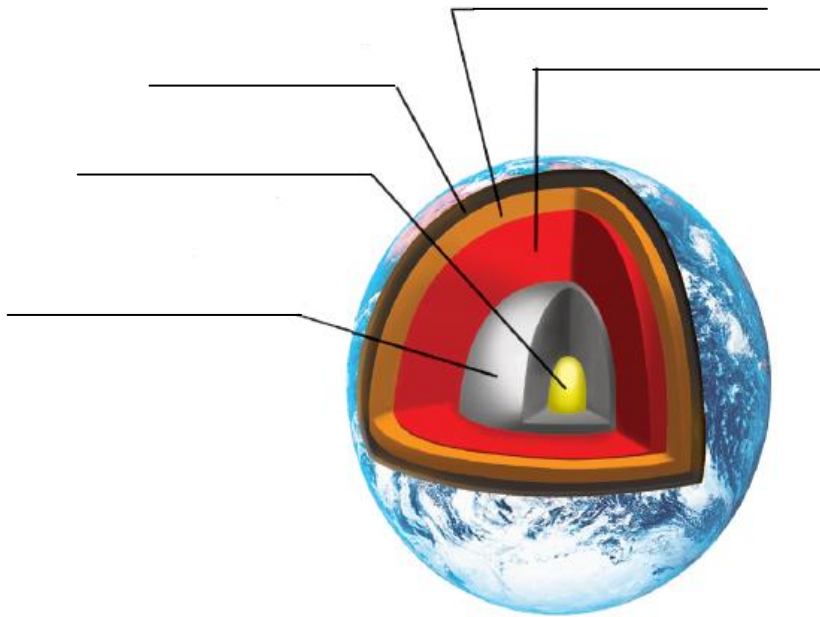
9. Proyección cilíndrica en la que la distancia entre los paralelos aumenta hacia los polos incrementando de manera exagerada el tamaño del hemisferio norte.

- Peters
- Mollweide
- Goode
- Mercator

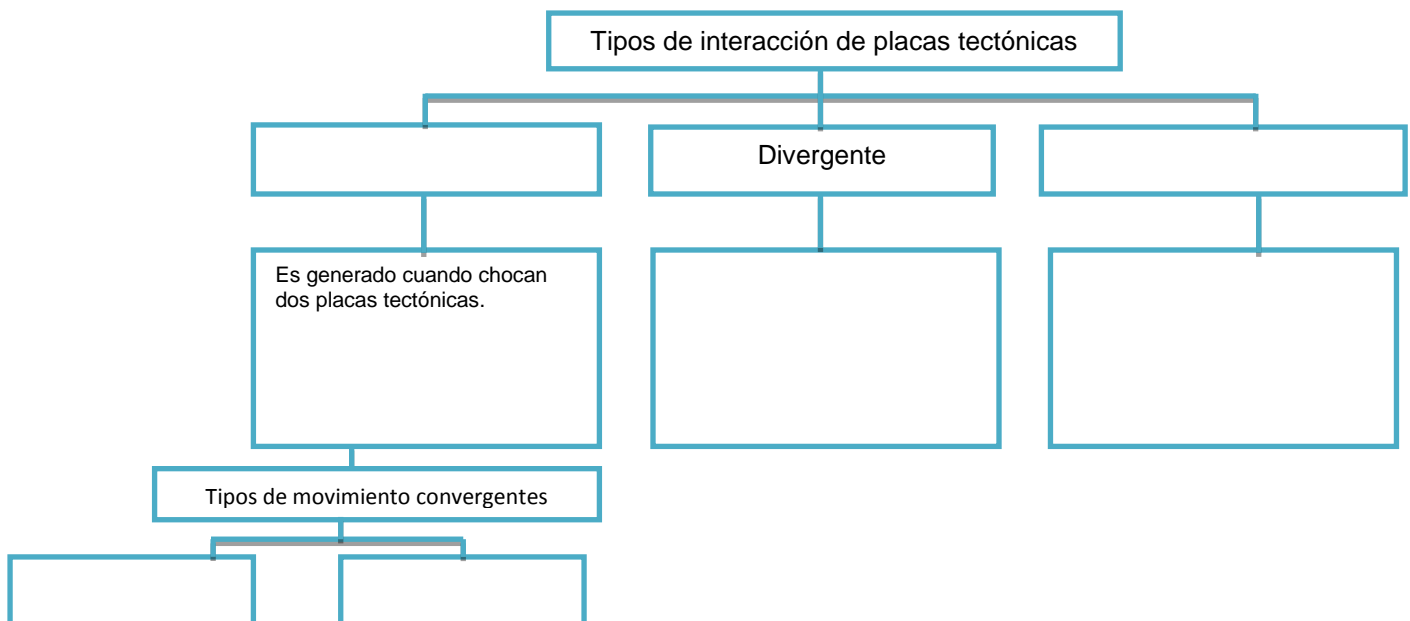
**Bloque II**

**Instrucciones.** Lee y contesta correctamente lo que se te pide.

1. Completa el esquema escribiendo sobre las líneas los nombres de las capas de la Tierra.



2. Completa el siguiente cuadro sinóptico.



3. ¿En dónde se encuentra la región sísmica más importante del mundo?

- a) En la periferia del Océano Pacífico
- b) En la periferia de Océano Atlántico
- c) En la periferia del Océano Índico
- d) En la periferia del Océano Antártico

4. ¿Cuáles son las tres zonas sísmicas ubicadas en México?

- a)
- b)
- c)

5. Escribe los componentes del tipo de relieve que se solicita en cada caso.

<b>Relieve de la Tierra</b>	<b>Continental</b>	• • • •
	<b>Oceánico</b>	• • •

6. Describe cuál es la importancia de las aguas continentales para el ser humano.

7. Menciona las principales cuencas hídricas que se encuentran en México y escribe tu opinión acerca de la captación del agua.

- a)
- b)
- c)

8. Relaciona las columnas colocando las letras de los incisos en los paréntesis correspondientes.

- |                  |     |   |
|------------------|-----|---|
| a) Temperatura   | ( ) | Grado de calor que posee el aire en un lugar determinado.   |
| b) Latitud       | ( ) | Se relaciona con las coordenadas geográficas, mismas que permiten identificar la posición de cualquier punto sobre la superficie terrestre respecto al Ecuador. |
| c) Precipitación | ( ) | Ocurre cuando las gotas de agua provenientes de la atmósfera caen en forma de lluvia, nieve o granizo.  |
| d) Altitud       | ( ) | Es la distancia vertical hacia un punto determinado a partir del nivel medio del mar.   |

9. Llena la siguiente tabla tomando en cuenta la clasificación de climas de Köppen.

Símbolo	Zona climática

10. Menciona las principales regiones naturales que se encuentran distribuidas en el hemisferio sur del planeta.

### Bloque III

**Instrucciones.** Lee y contesta correctamente lo que se te pide.

1. ¿Cuál es la diferencia entre el crecimiento poblacional natural y el social?
2. Describe los principales factores físicos y sociales que influyen en la distribución de la población.
3. Completa el cuadro con lo que se solicita.

Política de natalidad	¿En qué consiste?	Países que lo llevan a cabo
Natalista		
Antinatalista		

4. Describe en qué consisten los factores que originan los tipos de sistemas urbanos.

a)

b)



c)

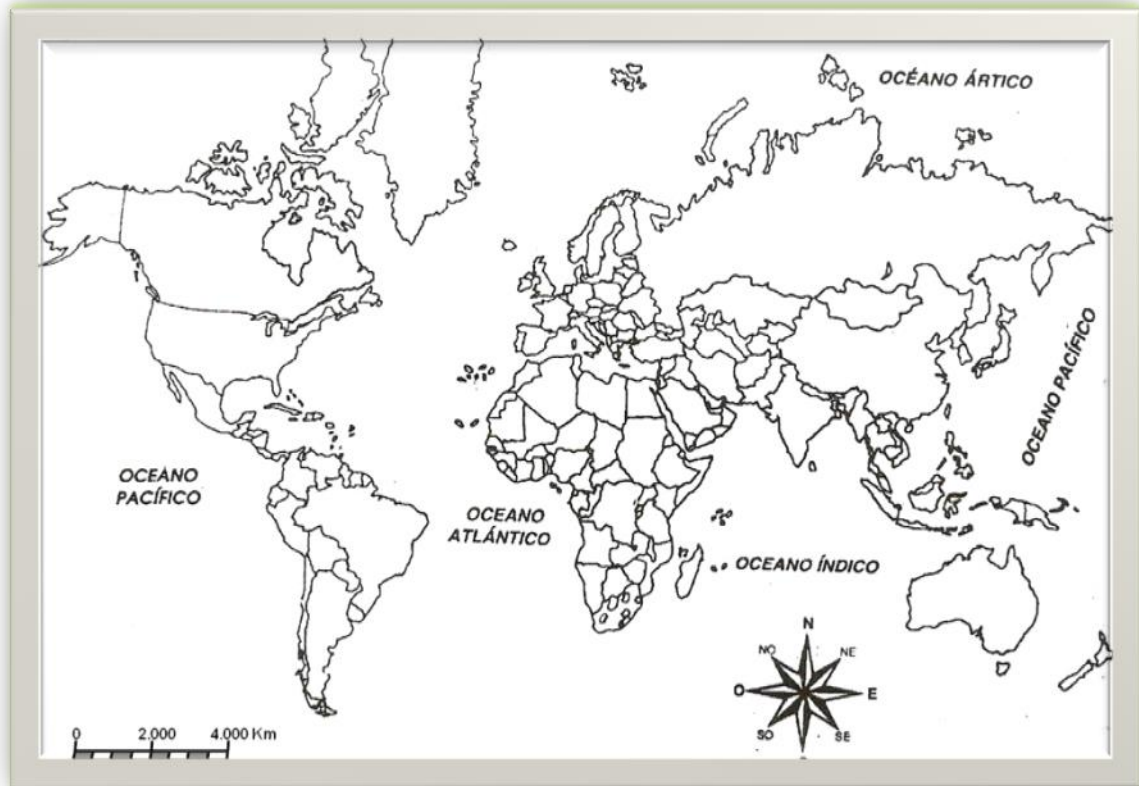
d)

e)

5. Menciona qué son y en qué estados del país existen los mayores índices de los siguientes problemas sociales.

Problemática	¿Qué es?	Estados con mayor índice de incidencia
Pobreza		
Discriminación		
Marginación		
Desnutrición		

6. Observa el siguiente mapamundi e ilumina con el color de tu preferencia los países con mayor número de migrantes.



7. Relaciona las columnas colocando las letras de los incisos en los paréntesis correspondientes.

- |                          |  |
|--------------------------|--|
| a) Cultura tradicional   | ( ) Refiere a los rasgos de la sociedad actual, caracterizada por la homogeneización.      |
| b) Cultura contemporánea | ( ) Son resultado de innovaciones tecnológicas y científicas que se dan en nuestro tiempo. |
| c) Cultura emergente     | ( ) Conjunto de creaciones culturales que se fundamenta en las tradiciones.                |

8. Menciona qué es la multiculturalidad y expón un ejemplo.

9. Escribe en la siguiente tabla tres ejemplos de homogeneización cultural en nuestro país.

Ejemplo 1	Ejemplo 2	Ejemplo 3

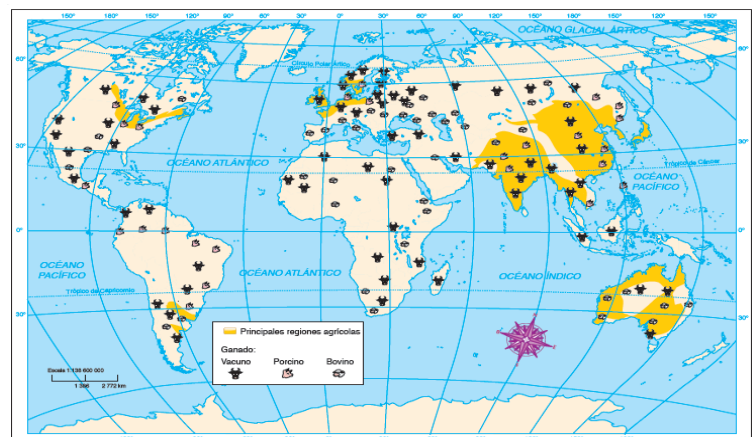
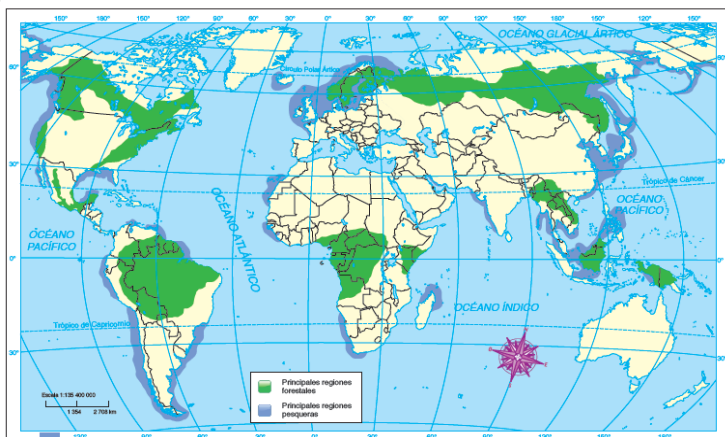
## Bloque IV

**Instrucciones.** Lee y contesta correctamente lo que se te pide.

1. Completa el cuadro escribiendo las características de los siguientes espacios económicos.

Espacios agrícolas	
Espacios ganaderos	
Espacios forestales	
Espacios pesqueros	

2. Analiza los siguientes mapas y describe qué países tienen un mayor aprovechamiento de sus espacios naturales y qué posicionamiento económico puedes inferir a nivel mundial a partir del uso de sus recursos.



3. Relaciona las columnas con base en los diferentes tipos de pesca.
- |                        |     |  |
|------------------------|-----|--|
| a) Pesca de altura     | ( ) | Se efectúa en ríos, lagos, presas y estanques. Su objetivo es satisfacer las demandas del mercado local o de ciudades lejanas al mar.                                    |
| b) Pesca comercial     | ( ) | Se desarrolla en alta mar, en embarcaciones que poseen refrigeradores y bodegas para almacenar y conservar las especies capturadas.                                      |
| c) Pesca de agua dulce | ( ) | Se lleva a cabo en las zonas cercanas a las costas para abastecer el autoconsumo y el mercado local.   |
| d) Pesca de litoral    | ( ) | Para realizarla, se usan embarcaciones conocidas como “barcos de fábrica” que cuentan con sistemas sofisticados de redes, cámaras refrigerantes, bodegas y procesadoras. |
4. Se utilizan básicamente para producir fertilizantes, artículos de limpieza, higiene personal y en la industria farmacéutica.
- a) Minerales metálicos
  - b) Minerales radioactivos
  - c) Minerales energéticos
  - d) Minerales no metálicos
5. Elige la opción que contenga minerales energéticos.
- a) Hierro, aluminio, cobre
  - b) Fósforo, azufre, arcilla
  - c) Carbón, petróleo, uranio
  - d) Plomo, grafito, gas natural
6. ¿Qué importancia económica tiene el turismo en México? Proporciona al menos tres ejemplos.

7. ¿Qué es el Índice de Desarrollo Humano (IDH) y qué mide?

8. El siguiente mapa de México indica con diferente código de color los estados con un Índice de Desarrollo Humano alto, medio y bajo. ¿Cuáles consideras que tienen un IDH alto? Justifica tu respuesta.



9. ¿Qué es el Producto Nacional Bruto (PNB) y qué importancia tiene en los países?



4. Describe la función de cada uno de los siguientes organismos internacionales y relaciona las columnas.

a) Organización de las Naciones Unidas (ONU)

( )



b) Organización Mundial de la Salud (OMS)

( )



c) Organización Panamericana de la Salud (OPS)

( )



5. ¿Qué riesgos sanitarios percibes en tu entorno y qué harías para combatirlos?



6. ¿Qué medidas preventivas tomarías ante un desastre natural como un sismo?

7. ¿Qué medidas ejercerías para prevenir un incendio forestal?